



Fundación Educacional Club Hípico  
Rodrigo Ordoñez 13150, El Bosque, Santiago - Fono (02) 25296182.  
[contacto@colegioclubhipico.cl](mailto:contacto@colegioclubhipico.cl)  
"Escuela y Familia unida para formar y educar".

## APOYO PEDAGOGICO DE MATEMATICAS 1º BASICOS OBJETIVOS PRIORIZADOS 2020-2021 (SEMANA DEL 13 AL 18 DE JULIO)

NOMBRE: ..... CURSO : .....FECHA:.....

Clase 36



RECORDEMOS  
COMO  
COMENZAMOS A  
SUMAR.

<b>Profesora</b>	Carolina Domínguez.	<a href="mailto:carolina.dominguez@colegioclubhipico.cl">carolina.dominguez@colegioclubhipico.cl</a>
<b>Profesora Diferencial</b>	Loreto González R.	<a href="mailto:loreto.gonzalez@colegioclubhipico.cl">loreto.gonzalez@colegioclubhipico.cl</a>

★ N1 OA9: Demostrar que comprenden la adición y la sustracción de números del 0 al 20 progresivamente, de 0 a 5, de 6 a 10, de 11 a 20 con dos sumandos

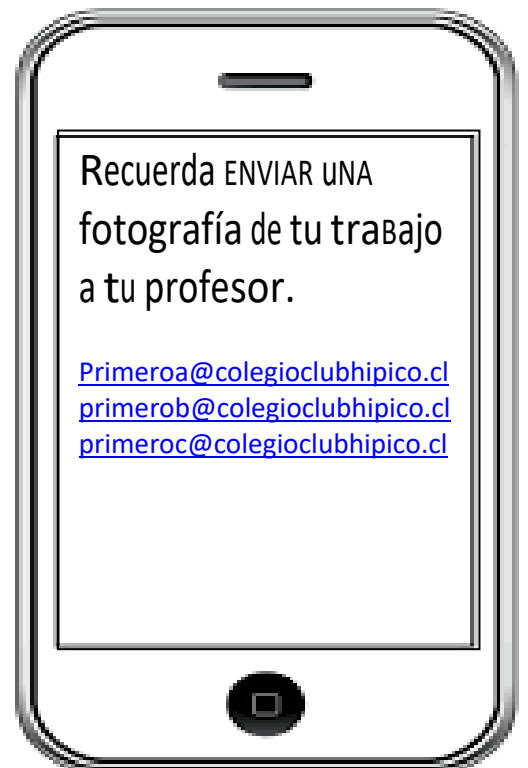


### Instrucciones :

1. Observa el siguiente video
2. <https://www.youtube.com/watch?v=Nm1YeXowMyA&feature=youtu.be>
3. Trabajaremos en el texto sumo primero las siguientes páginas: 36,37,38,39,30 y 41
4. Pegaras o traspasaras los ticktes de salida y los pegaras en tu cuaderno azul.
5. Piensa y realiza cada uno de estos.

Recuerda ENVIAR UNA  
fotografía de tu trabajo  
a tu profesor.

[Primeroa@colegioclubhipico.cl](mailto:Primeroa@colegioclubhipico.cl)  
[primerob@colegioclubhipico.cl](mailto:primerob@colegioclubhipico.cl)  
[primeroc@colegioclubhipico.cl](mailto:primeroc@colegioclubhipico.cl)

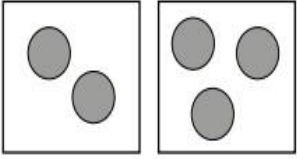




OA9 Demostrar que comprenden la adición de números del 0 al 20


Ticket de salida pág. 36

**¿Cuántos hay en total?**



OA9 Demostrar que comprenden la adición de números del 0 al 20

Ticket de salida pág. 38



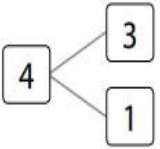
**Frase numérica:**

+  =

OA9 Demostrar que comprenden la adición de números del 0 al 20

Ticket de salida pág. 39

**Escribe como suma.**



+  =



**Te invito a realizar el siguiente desafío.**

1. Tendrás que lanzar 2 veces un dado. Luego registraras los números que te salieron en tu cuaderno de matemáticas y tendrás que sumarlos.
2. Recuerda que debes colocar el signo más **+** entre los dos números
3. Si no tienes un dado te dejo este modelo para que lo puedas armar y jugar cuantas veces quieras.



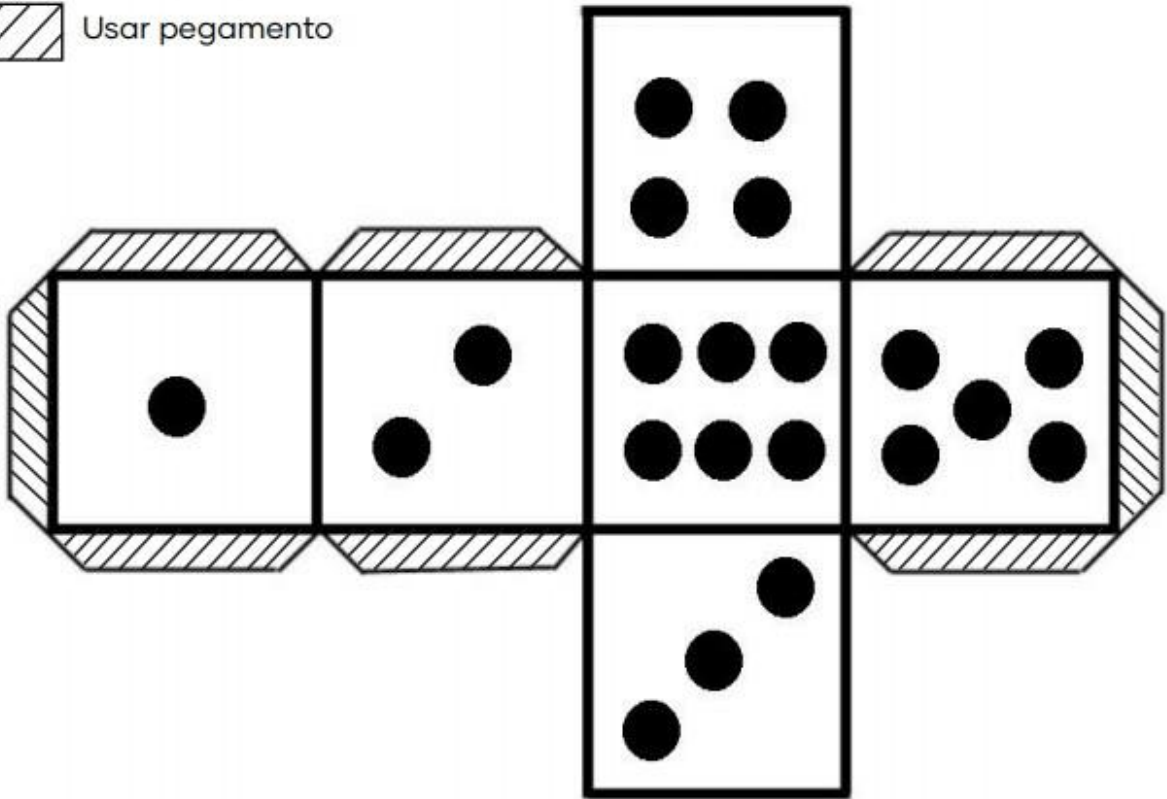
Fundación Educacional Club Hípico  
Rodrigo Ordoñez 13150, El Bosque, Santiago - Fono (02) 25296182.

[contacto@colegioclubhípico.cl](mailto:contacto@colegioclubhípico.cl)

*"Escuela y Familia unida para formar y educar".*



Usar pegamento



#### RUBRICA PARA EL DESAFIO

INDICADORES	LOGRADO	POR LOGRAR	NO LOGRADO
REGISTRA LOS 2 NUMEROS QUE LE SALIERON EN EL DADO EN EL CUADERNO AZUL.			
REGISTRA EL SIGNO DE LA OPERACION			
REGISTRA EL RESULTADO DE LA FORMA CORRECTA			
ENVIA FOTOGRAFIA AL PROFESOR.			